

**Муниципальный этап Всероссийской олимпиады
школьников по Основам безопасности жизнедеятельности
в 2020-2021 учебном году в Вологодской области
Теоретический тур – 10-11 классы**

Максимальное время выполнения заданий: 90 мин.

Максимальное количество набранных баллов: 100

ТЕОРЕТИЧЕСКИЙ ТУР

Впишите свой код/шифр			

Уважаемый участник Олимпиады!

При выполнении заданий теоретического тура вам предстоит выполнить определенную работу, которую лучше организовать следующим образом:

- не спеша, внимательно прочитайте тестовое задание;
- определите, какой из предложенных к заданию вариантов ответа наиболее верный и полный;
- обведите кружком букву (буквы), соответствующую выбранному вами ответу;
- если вы отвечаете на теоретический вопрос, обдумайте и сформулируйте конкретный ответ только на поставленный вопрос;
- если вы отвечаете на предложенную ситуацию, обдумайте порядок и последовательность действий по предложенной ситуации и впишите ответы в той последовательности, которую вы определили, при этом ответ должен быть кратким, но содержать необходимую информацию;
- продолжайте таким образом работу до завершения выполнения заданий;
- после выполнения всех предложенных заданий еще раз удостоверьтесь в правильности выбранных вами ответов и решений;

Задание теоретического тура считается выполненным, если Вы вовремя сдаете его членам жюри.

Желаем вам успеха!

Максимальный балл	100	Общий набранный балл		Председатель жюри	<div>_____</div> <div>подпись</div>
-------------------	-----	----------------------	--	-------------------	-------------------------------------


1. Письменные задания теоретического тура

Вариант ответа.

[illegible]

Подпись члена жюри

Ответ:



**Муниципальный этап Всероссийской олимпиады
школьников по Основам безопасности жизнедеятельности
в 2020-2021 учебном году в Вологодской области
Теоретический тур – 10-11 классы**

Вопрос 3. Определите вид боевых токсичных химических веществ, в зависимости от их названия и заполните до конца схему.

Ответ:




	Зарин, заман,		Иприт
	Фосген		Синильная кислота, хлорциан
	BZ (Би-зет)		CS (Си-Эс), CR (Си-Ар),

Максимальная оценка – 6 баллов; Фактическая оценка –

Подпись члена жюри:




Вопрос 4. С целью облегчения поиска людей, попавших в опасную ситуацию целесообразно применять Международную кодовую таблицу воздушных сигналов «Земля-Воздух». Её знаки могут быть выложены с помощью подручных средств (снаряжение, одежда, камни, деревья), непосредственно людьми, которые должны лечь на землю, снег, лёд, или вытоптаны на снегу.

Установите соответствие между сигналами и их значениями. Запишите в таблицу выбранные цифры под соответствующими буквами.

Сигнал	
А	
Б	
В	

Значение	
1	Я двигаюсь в этом направлении
2	Всё в порядке
3	Требуется карта и компас

**Муниципальный этап Всероссийской олимпиады
школьников по Основам безопасности жизнедеятельности
в 2020-2021 учебном году в Вологодской области
Теоретический тур – 10-11 классы**

Г		4	Разделились на две группы, каждая следует в указанном направлении.
Д		5	Нужен врач – серьёзные телесные повреждения.
Е		6	Нужны медикаменты


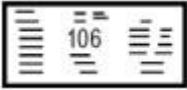
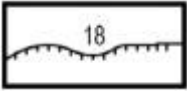


Ответ:

А –	Б –	В –	Г –	Д –	Е –
-----	-----	-----	-----	-----	-----



Максимальная оценка – 12 баллов; Фактическая оценка –
Подпись члена жюри:

Вопрос 5. Напишите что обозначают топографические знаки в таблице

Ответ:

Топографический знак	Что он обозначает
	
	
	
	
	

**Муниципальный этап Всероссийской олимпиады
школьников по Основам безопасности жизнедеятельности
в 2020-2021 учебном году в Вологодской области
Теоретический тур – 10-11 классы**

Максимальная оценка – 7 баллов; Фактическая оценка –
Подпись члена жюри:

Вопрос 6. Определите воинское звание



1.



2.



3.



4.



5.



6.

Ответ:

1. _____

2. _____

3. _____

4. _____

5. _____

6. _____

Максимальная оценка – 6 баллов; Фактическая оценка –
Подпись члена жюри:

**Муниципальный этап Всероссийской олимпиады
школьников по Основам безопасности жизнедеятельности
в 2020-2021 учебном году в Вологодской области
Теоретический тур – 10-11 классы**

Вопрос 7. Назовите эти ордена



1.



2.



3.



4.



5.

Ответ:

1. _____

2. _____

3. _____

4. _____

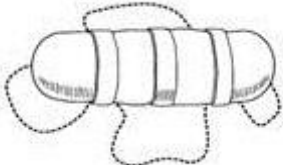
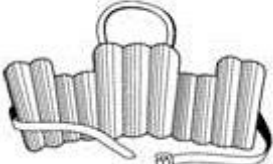

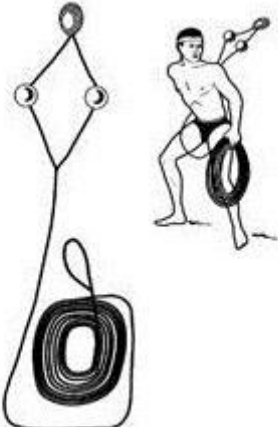
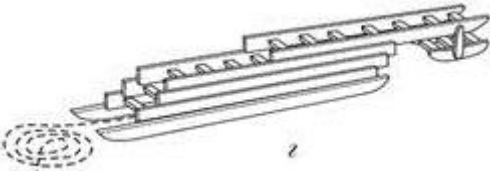
5. _____

Максимальная оценка – 6 баллов; Фактическая оценка –

Подпись члена жюри:

**Муниципальный этап Всероссийской олимпиады
школьников по Основам безопасности жизнедеятельности
в 2020-2021 учебном году в Вологодской области
Теоретический тур – 10-11 классы**

Вопрос 8. Заполните таблицу, вписав наименования табельных спасательных средств на воде и на льду.

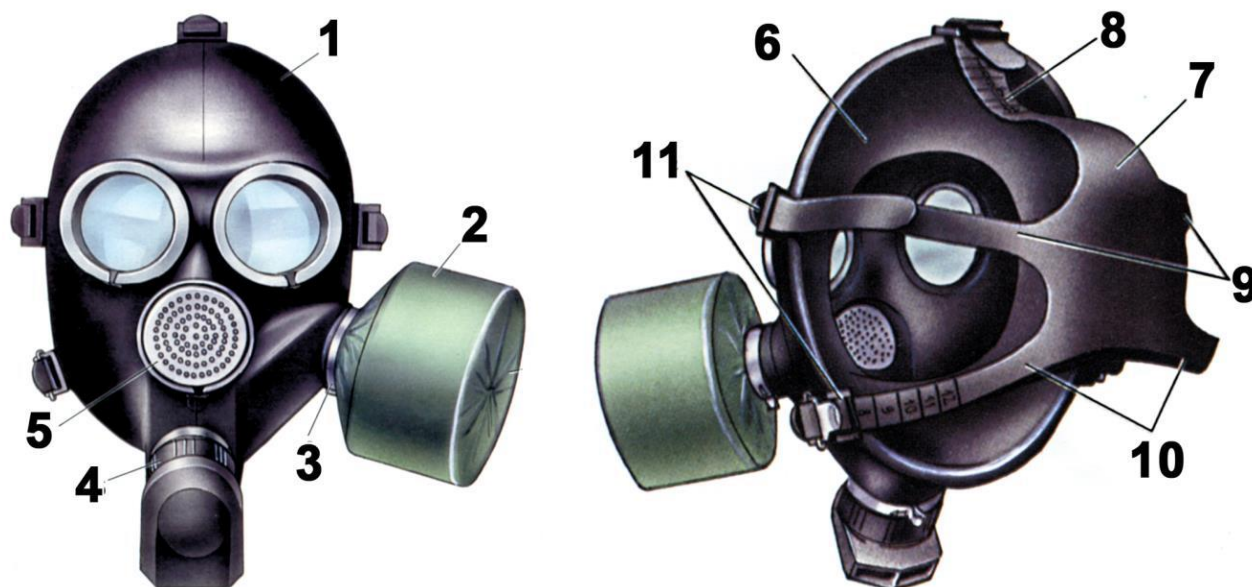
Графическое изображение	Наименование средства
	
	
	
	
	

Максимальная оценка – 5 баллов; Фактическая оценка –
Подпись члена жюри:

**Муниципальный этап Всероссийской олимпиады
школьников по Основам безопасности жизнедеятельности
в 2020-2021 учебном году в Вологодской области
Теоретический тур – 10-11 классы**

Вопрос 9. Определите тип и марку изображенного на рисунке противогаза. Укажите названия составных частей противогаза, отмеченных цифрами.

Ответ:



Тип противогаза – _____

Марка противогаза - _____

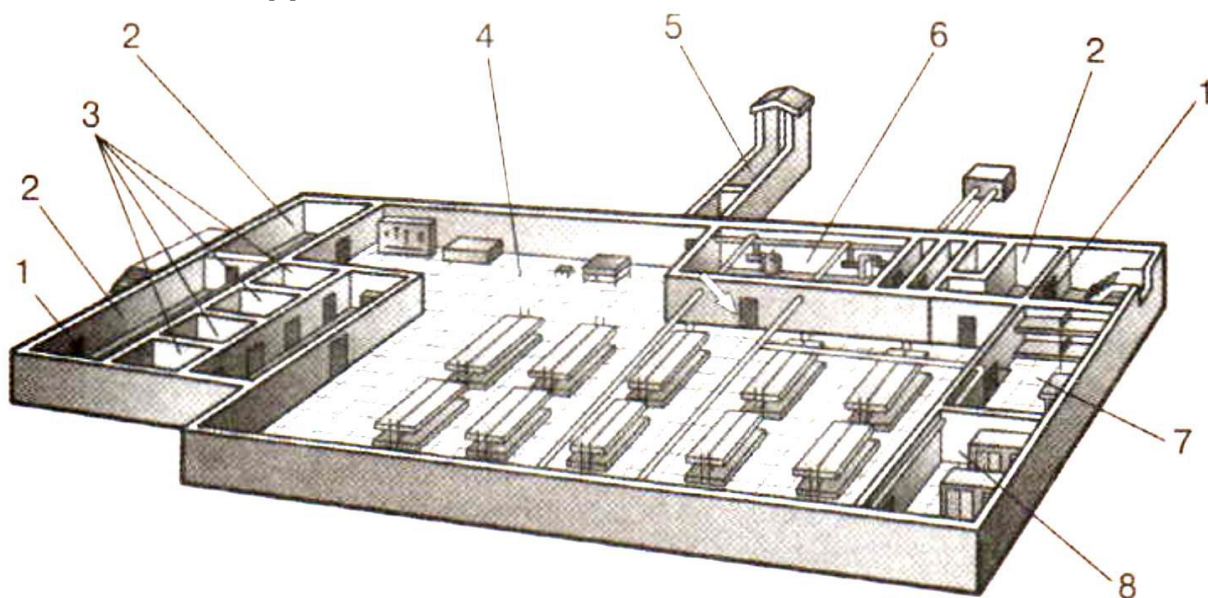
1	
2	
3	
4	
5	
6	
7	
8	
9	
10	
11	

Максимальная оценка – 5 баллов; Фактическая оценка –

Подпись члена жюри:

**Муниципальный этап Всероссийской олимпиады
школьников по Основам безопасности жизнедеятельности
в 2020-2021 учебном году в Вологодской области
Теоретический тур – 10-11 классы**

Вопрос 10. На рисунке изображен эскиз защитного сооружения ГО. Назовите тип защитного сооружения и перечислите его элементы, отмеченные цифрами.



Ответ:

Тип защитного сооружения – _____

1	
2	
3	
4	
5	
6	
7	
8	

Максимальная оценка – 5 баллов; Фактическая оценка –

Подпись члена жюри:

Общее количество баллов за письменные задания –


Подпись члена жюри:

**Муниципальный этап Всероссийской олимпиады
школьников по Основам безопасности жизнедеятельности
в 2020-2021 учебном году в Вологодской области
Теоретический тур – 10-11 классы
Модуль 2. ТЕСТОВЫЕ ЗАДАНИЯ**

**Будьте внимательны при чтении вопроса! Выберите в заданиях один
или несколько правильных ответов и отметьте галочкой, или обведите
кружком**

№	Тестовые задания	Макс. балл	Количество набранных баллов
Определите один правильный ответ			
1	<p>Что означает знак международной авиационной аварийной жестовой сигнализации «У стоящего человека правая рука вытянута вверх, левая опущена вдоль туловища»</p> <p>а) Здесь возможна посадка б) Всё в порядке в) Утвердительный ответ (да) г) Двигаться не можем. Остаёмся на месте</p>	1	
2	<p>При спуске с эскалатора вещи пассажира попали в гребёнку эскалатора. Какое действие следует выполнить очевидцу происшествия?</p> <p>а) быстро помочь пассажиру освободить зажатые вещи б) постараться быстро найти сотрудника метрополитена или полиции и сообщить о происшедшем в) незамедлительно остановить эскалатор ручкой «Стоп» находящейся на балюстраде г) предупредить пассажиров, находящихся на эскалаторе, о происшедшем</p>	1	
3	<p>На какой из картинок изображен флаг министерства обороны РФ?</p> <p>а) </p> <p>б) </p> <p>в) </p> <p>г) </p>	1	

**Муниципальный этап Всероссийской олимпиады
школьников по Основам безопасности жизнедеятельности
в 2020-2021 учебном году в Вологодской области
Теоретический тур – 10-11 классы**

4	<p>Кто принимает решение о применении Вооруженными Силами Российской Федерации вооружения с территории Российской Федерации против находящихся за ее пределами террористов?</p> <p>а) Президент Российской Федерации б) Государственная Дума Федерального Собрания Российской Федерации в) Министр обороны Российской Федерации по согласованию с Президентом Российской Федерации г) Совет Федерации Федерального Собрания Российской Федерации</p>	1	
5	<p>Укажите государя Руси, который первым начал формировать «полки нового строя»</p> <p>а) Михаил Федорович б) Алексей Михайлович в) Петр I г) Софья Алексеевна</p>	1	
6	<p>Укажите смысловое обозначение данного предписывающего знака</p> <div style="text-align: center;">  </div> <p>а) «Защитные перчатки снимать здесь» б) «Работать без защитных перчаток» в) «Место хранения защитных перчаток» г) «Работать в защитных перчатках»</p>	1	
7	<p>Какая из ЧС относится к геофизическим?</p> <p>а) сель б) засуха в) тайфун г) землетрясение</p>	1	
8	<p>Как должен поступить гражданин, имеющий законную отсрочку от призыва на военную службу, в случае получения повестки из военного комиссариата?</p> <p>а) может не прибывать в военный комиссариат в связи с наличием законной отсрочки от призыва на военную службу б) в установленные время и место явиться в военный комиссариат в) в письменной форме незамедлительно уведомить военного комиссара о наличии у него законной отсрочки от призыва на военную службу г) направить в военный комиссариат любого из своих родителей (своего законного представителя)</p>	1	
9	<p>Укажите отравляющее вещество нервнопаралитического действия?</p> <p>а) фосген б) синильная кислота</p>	1	

**Муниципальный этап Всероссийской олимпиады
школьников по Основам безопасности жизнедеятельности
в 2020-2021 учебном году в Вологодской области
Теоретический тур – 10-11 классы**

	в) иприт г) зоман		
10	С помощью какого механизма передачи передаётся корь? а) фекально-оральный б) кровяной (трансмиссивный) в) аэрогенный (респираторный) г) контактный	1	
Определите все правильные ответы			
11	Какие военно-административные единицы НЕ являются военными округами ВС РФ в настоящее время? а) Восточный военный округ б) Западный военный округ в) Дальневосточный военный округ г) Центральный военный округ д) Северный военный округ	2	
12	Что обязаны граждане Российской Федерации в области пожарной безопасности? а) принимать участие в установлении причин пожаров в помещениях и строениях, находящихся в их собственности (пользовании) б) иметь в помещениях и строениях, находящихся в их собственности (пользовании), первичные средства тушения пожаров и противопожарный инвентарь в) тушить пожар в помещениях и строениях, находящихся в их собственности (пользовании), с использованием первичных средств пожаротушения г) обеспечивать себя средствами индивидуальной защиты органов дыхания д) оказывать содействие пожарной охране при тушении пожаров	2	
13	Какие рода войск входят в состав воздушно-космических сил РФ? а) военно-воздушные силы б) десантно-штурмовые войска в) ракетные войска и артиллерия г) космические войска д) мотострелковые войска	2	
14	Какую ответственность несут граждане РФ за осуществление экстремистской деятельности? а) материальную б) гражданскую в) уголовную г) дисциплинарную д) административную	2	
15	Кто обязан оказывать первую помощь пострадавшим? а) каждый гражданин, достигший совершеннолетия	2	

**Муниципальный этап Всероссийской олимпиады
школьников по Основам безопасности жизнедеятельности
в 2020-2021 учебном году в Вологодской области
Теоретический тур – 10-11 классы**

	б) учащиеся в) работники Государственной противопожарной службы г) сотрудники органов внутренних дел д) свидетели происшествия		
16	Какие из боевых отравляющих веществ относятся к нервнопаралитическим? а) AC б) CG в) GB г) VX д) CK	2	
17	17. Укажите номера телефонов экстренных служб оператора «Мегафон» а) 01 б) 001 в) 101 г) 112 д) 201	2	
18	Какие из перечисленных признаков являются достоверными при определении вывиха? а) изменение длины конечности б) наличие отёка в) появление боли г) деформация в области сустава д) присутствие синяка	2	
19	Какие действия запрещается выполнять при ранении живота? а) давать пить и предлагать обезболивающий препарат б) прикладывать холод к животу в) прикрывать рану чистой салфеткой г) извлекать из раны инородный предмет д) протирать губы влажной салфеткой	2	
20	Укажите явные признаки клинической смерти а) наличие пульса на сонной артерии б) отсутствие пульса на запястье в) отсутствие дыхания г) стридорозное дыхание д) отсутствие пульса на сонной артерии	2	
	Общая оценка за тест	30 баллов	

Общее количество баллов за тестовые задания _____

Подпись члена жюри: